



L _ _ ? L _ _ _ .

L _ _ ? L _ _ _ .



L _ _ ? L _ _ _ .



L _ ? L _ _ _ .

L _ _ ? L _ .




L _ ? L _ _ .

L _ _ ? L _ .





— L — — !
— L — — !



L — — — ? L — — — .
L — — — . L — — — .



L _ _ ? L _ _






L _ _ _ _ . -L, _ ! -L! L! L!



L _ _ _ .



L _ _ _ .





L, _ _ . L _ _ _ .
 L _ _ _ .



-L, _ _ . L _ _ _ .



-L, _ _ . L _ _ _ .



L _ _ _ . L _ _ _ .
 -L, _ _ _ _ ! -L, _ _ !







L _ ? L _ , _ , _ _ _ .
L _ _ _ .





L _ , _ ! - L _ .



L _ _ .



L _ _ .




L _ _ .



L _ . L _ _ .



_____.



_____.



_____.



_____.



_____.



_____.



-L _ , _ ! -L _ , _ !



-L _ , _ ! -L _ , _ !



L _ _ . L _ _ _ .



L _ _ . L _ _ _ .



L _ _ . L _ _ _ .



L _ _ . L _ _ _ .



L _ _ _ .



L _ _ _ .



L _ _ _ .



L, _ _ ? L, _ , _ !



L _ , _ !



L _ , _ !



L , _ , _ !



L _ , _ !



L . . . L . . . , . . . , . . . , . . .



L . . .

L . . .





L _ _ . L _ _ .

L _ _ .



L _ _ .



L _ _ .



L _ ? L _ . L _ ?
 L _ , _ , _ , _ .



L _ .




L _ .





L _ _ .

L _ _ .




L _ _ .



L _ _ .



L _ _ .






-L, _ _ _ ? -L _ _ _ .

-L _ _ _ ? -L _ _ _ .



L _ _ _ . L _ _ ?

L _ _ , _ _ , _ _ .






— — — — —




— — — — —



— — — — —



L _ _ . L _ , _ _ _ .



L _ _ _ _ .



L _ _ . L _ _ , _ _ _ .



L _ _ _ .





L _ ? L _ .

-L, _ _ _ . L _ _ .







L _ _ _ .




L _ _ _ .



L _ . L _ _ . L _ _ .



L _ . L _ _ . L _ _ .






Л _ _ .

З	И		
---	---	--	--

Д			И
---	--	--	---





Л _ _ _ . Л _ _ _ .



L _ _ _ .
 [] [] Н []

L _ _ _ .
 [] [] Н Ъ []





L _ _ _ . L _ _ !



L _ _ _ ?



L _ _ _ ?



┌───┬───┬───┬───┬───┐



┌───┬───┬───┐



┌───┬───┬───┐






-L _ _ _ ? -L _ _ .



L _ _ _ .

È			
---	--	--	--

3. Ҳар қайси қуш арқондаги тугунга нисбатан (24-расм) каерда турибди?



24-расм 1) катакнинг эни – 1 дм

Кӯрилган икки масалада олмахон билан қушнинг қайси йўналишда жойлашганлиги (пастдами, юқоридами ёки ўнгдами, чапдами) ҳақида фикр юритган.

Қуйидаги масалада эса поезднинг маълум бир томон сари йўналиши ҳақида тасаввур берилади.

4. Автобус Қўрғонтеппадан чикиб, 30 км/соат тезлик билан бормоқда (25 расм, масофа яхлитланган). Автобус 1 соатдан кейин қайси жойга етиб боради?

5. Автобуснинг йўлдаги ўрнини аниқлаш учун унинг Қўрғонтеппадан қандай масофада эканлигини билиш етарли эмас. Бундан ташқари у каерга қараб – Душанбегами ёки Дўстигами кетаётганлигини ҳам билиш керак. Автобус Душанбе томон кетаётган бўлса, у ҳолда 2 соату 40 минутдан кейин Рудаки ноҳиянинг марказига келади. Агар у Дўсти томонига кетаётган бўлса, у ҳолда 1 соату 20 минутда Колхозободга етиб келади (расмга қаранг): а) Автобус Душанбега кетаётган бўлса, у 3 соатдан кейин каерда бўлади? б) Дўстига кетаётган бўлса, 2 соатдан кейин каерда бўлади?



25-расм

ПРОИЗНОСИТЕ ПРАВИЛЬНО

Ы



Л



К



Г



Х



Ч



Ш



Ж



Ф



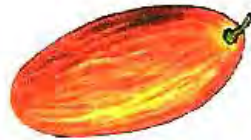
Щ



Ц



Я



Ё



Ю



И — Ы



_____ М Ы _____



_____ М И _____




Л _ _ _ .

М	И			
---	---	--	--	--



Л _ _ _ .

М	Ы			
---	---	--	--	--



Л _ _ _ .

Ш			Ы
---	--	--	---



Л _ _ _ .

М	Ы	З	А	М	И	Р
---	---	---	---	---	---	---




Л _ _ _ _ .

		л	
--	--	---	--

Л _ _ _ _ .

л			
---	--	--	--



Л _ _ .

--	--	--	--

Л _ _ .

--	--	--

Л _ _ .

--	--	--	--	--	--